

Bonjour les CP ,
aujourd'hui nous allons jouer
à cache-cache serpent !



2 problèmes :

Zoé a acheté un paquet de 14 os pour Gribouille.

Gribouille a trouvé le sac et mangé 5 os.

Combien d'os reste-t-il ?

Il resteos dans le paquet.



Papy a acheté un paquet de 18 sucettes pour ces trois petits enfants.

Il veut partager les sucettes.

Combien de sucettes chaque petit enfant aura-t-il ?

(Dessine le partage)

Chaque petit enfant aura.....sucettes.



Plouf dans l'eau !

Lis la bande numérique sans dire les nombres cachés.

76	77		79	80	81			84			87			89			91			94	95			97			99	100
----	----	--	----	----	----	--	--	----	--	--	----	--	--	----	--	--	----	--	--	----	----	--	--	----	--	--	----	-----

Retrouve les nombres cachés et écris-les :

Entoure le plus petit des deux nombres :

28 34

64 46

51 47

19 90

40 32

78 91

45 56

27 17

12 22

50 90

La punta des dizaines

90

20

50

40

60

10

..... = 90

..... = 90

La monnaie

Entoure la monnaie qu'il faut pour acheter :



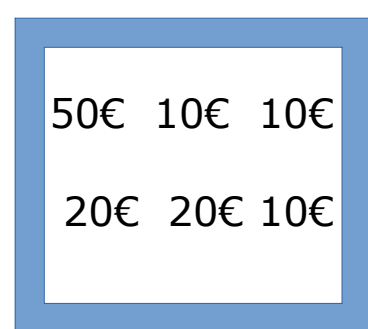
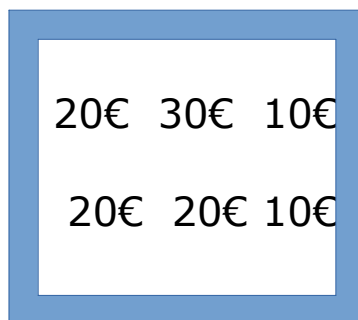
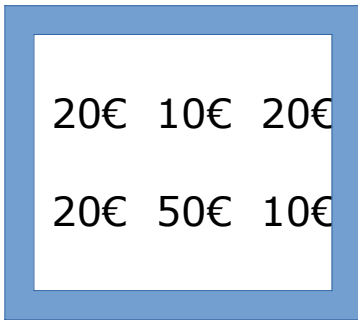
40€



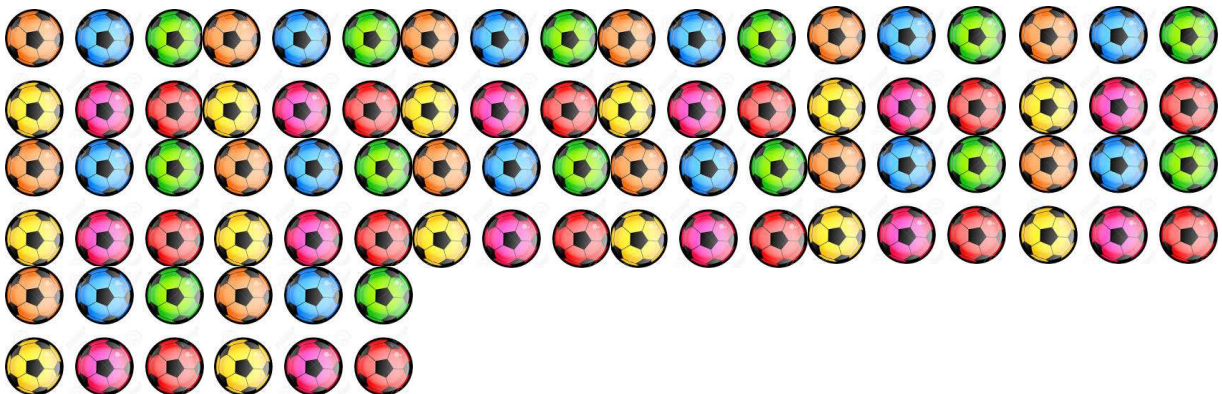
60€



80€



Compte les ballons de football:
N'oublie pas d'entourer les dizaines !



Alors pas faciles à compter
mes ballons!Hi!Hi !

Il y aballons de football.

