

Bonjour les CP !
Il y a une surprise aujourd'hui
dans le jeu Plouf dans l'eau !



2 problèmes :

Dans une boîte , il y avait une douzaine de craies.

Il en reste 8.

Ecris combien la maîtresse en a utilisé.

La maîtresse a utilisé.....craies.



Sur une boîte de craies ,Arthur lit: « 15 craies».

Il ouvre la boîte et il compte les craies. Il n'y a plus que

5 craies dans la boîte.

Ecris combien de craies ont déjà été utilisées.


.....craies ont déjà été utilisées.

Plouf dans l'eau !

Lis la bande numérique sans dire les nombres cachés.

60		62	63	64		66	67	68	69	70		72	73	74		76	77	78	79	80		82	83	84
----	--	----	----	----	--	----	----	----	----	----	--	----	----	----	--	----	----	----	----	----	--	----	----	----

85		87	88	89	90	91	92			85	86			89	90	92	93		95	96			99	100 !
----	--	----	----	----	----	----	----	--	--	----	----	--	--	----	----	----	----	--	----	----	--	--	----	-------



Retrouve les nombres cachés et écris-les :

.....

Compte les voitures :
(N'oublie pas d'entourer les dizaines!)



Des voitures ,des voitures !
Ça ne se mange pas !


Il y avoitures.

Écriture des nombres:
Relie les deux écritures du même nombre.

trente 81 cinquante-quatre 30 vingt - deux

22 soixante - neuf 69 quatre - vingt - un 54

La punta des dizaines



20 30 40 20 10

..... = 80
..... = 80

Calculs sur les dizaines :

N'oublie pas d'utiliser le chiffre des dizaines !



$30 + 30 = \dots\dots$ $20 + 40 = \dots\dots$ $60 + 10 = \dots\dots$

$20 + 20 + 20 = \dots\dots$ $10 + 10 + 10 = \dots\dots$ $30 + 40 + 10 = \dots\dots$


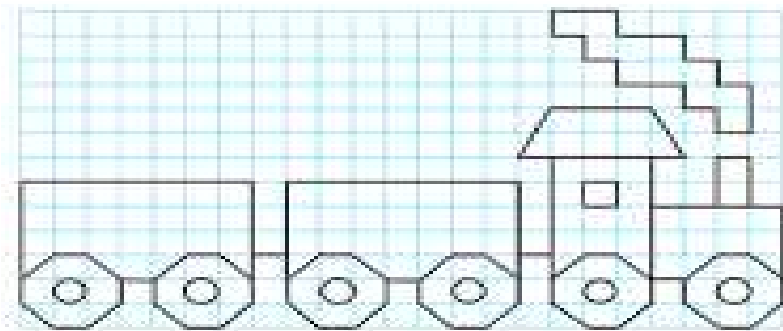
Le tableau des nombres :

- Ecris les nombres dans les cases jaunes.
- Ecris ensuite les nombres suivants à la bonne place :

34 18 51 42 89 64

0	1								
				14					
								28	
50									
						66			
80									
		92							

Dessin sur quadrillage



Bravo les CP !
Vous avez bien travaillé !
A demain !

