

Bonjour les CP !  
Aujourd'hui ,on utilise  
une règle !



Vendredi 15 mai 2020 *Mathématiques*

## 2 problèmes :

Papa a acheté un paquet 16 de chouquettes.

À la maison nous sommes 4.

Combien de chouquettes allons-nous manger chacun ?

Nous allons manger .....chouquettes chacun.

Dessine la distribution.



Maman a préparé 20 tartelettes à la crème pour mon anniversaire.

Nous serons 10 enfants.

Combien de tartelettes aurons-nous chacun ?

Chaque enfant aura .....tartelettes.

Dessine la distribution.



## Plouf dans l'eau !

Lis la bande numérique sans dire les nombres cachés.

7	8	9		11	12	13	14	15			18	19	20	21	22		24	25	26		28	29	30	31
---	---	---	--	----	----	----	----	----	--	--	----	----	----	----	----	--	----	----	----	--	----	----	----	----

32	33	34		36	37	38		40	41	42	43	44	45		47	48	49		51	52	53	54		56
----	----	----	--	----	----	----	--	----	----	----	----	----	----	--	----	----	----	--	----	----	----	----	--	----

57	58	59	60	61	62	63	64	65	66		68	69	70		72	73	74		76		78	79	80	81
----	----	----	----	----	----	----	----	----	----	--	----	----	----	--	----	----	----	--	----	--	----	----	----	----

Retrouve les nombres cachés et écris-les :

.....

Calcul mental :(opérations lues par les parents)



a



b



c



d




e



f

a : 10 +20    b : 50 +10    c : 20 + 20    d : 30 +20    e : 40 +20    f : 40+40

Compte les ananas :  
N'oublie pas d'entourer les dizaines !




Oh non ! Des ananas ,des ananas !

Il y a .....ananas.



## Les figures géométriques

Entoure les carrés en jaune , les rectangles en bleu et les triangles en orange :



## Tracés de figures

En reliant des points ,trace avec une règle:  
en rouge deux carrés , en bleu un triangle, en vert un rectangle.



Des carrés ,des triangles, des rectangles...moi je préfère les os !  
A lundi !

