

Mes...


Lire l'heure

Sur cette horloge, on peut voir 2 aiguilles :

- La petite : elle indique les heures.
- La grande : elle indique les minutes.




Il faut 60 minutes pour faire une heure. Quand la grande aiguille fait un tour de cadran, la petite aiguille avance d'une heure.




La grande aiguille est sur le 12.

9 h 00
Il est neuf heures.



La grande aiguille est sur le 3.


11 h 15
Il est onze heures et quart.



La grande aiguille est sur le 6.

10 h 30
Il est dix heures et demie.

- un quart d'heure = 15 minutes
- une demi-heure = 30 minutes
- une heure = 60 minutes



Mes...


Lire l'heure [2]



L'aiguille des heures avance très lentement, mais elle avance !



Il est 10 h 00 min.
(10 h pile)
La petite aiguille est exactement sur le 10.



Il est 10 h 15 min.
(10 h et quart)
La petite aiguille n'est plus sur le 10, elle a un peu avancé.



Il est 10 h 30 min.
(10 h et demie)
La petite aiguille est à mi-chemin entre le 10 et le 11.

Les nombres écrits sur le cadran indiquent les heures.

Pour donner l'heure de l'après-midi, j'ajoute 12.

Le matin, je dis :	L'après-midi, je dis :
1 h	13 h
2 h	14 h
...	...
11 h	23 h
Midi (12 h)	Minuit (24 h → 00 h)



Matin : 2 h 00 min.
Après-midi : 14 h 00 min.

Anv bihan :

Deiziad :

MESURE **Lenn an eur** (T-04) *Lire l'heure*

Une journée : de minuit à minuit.

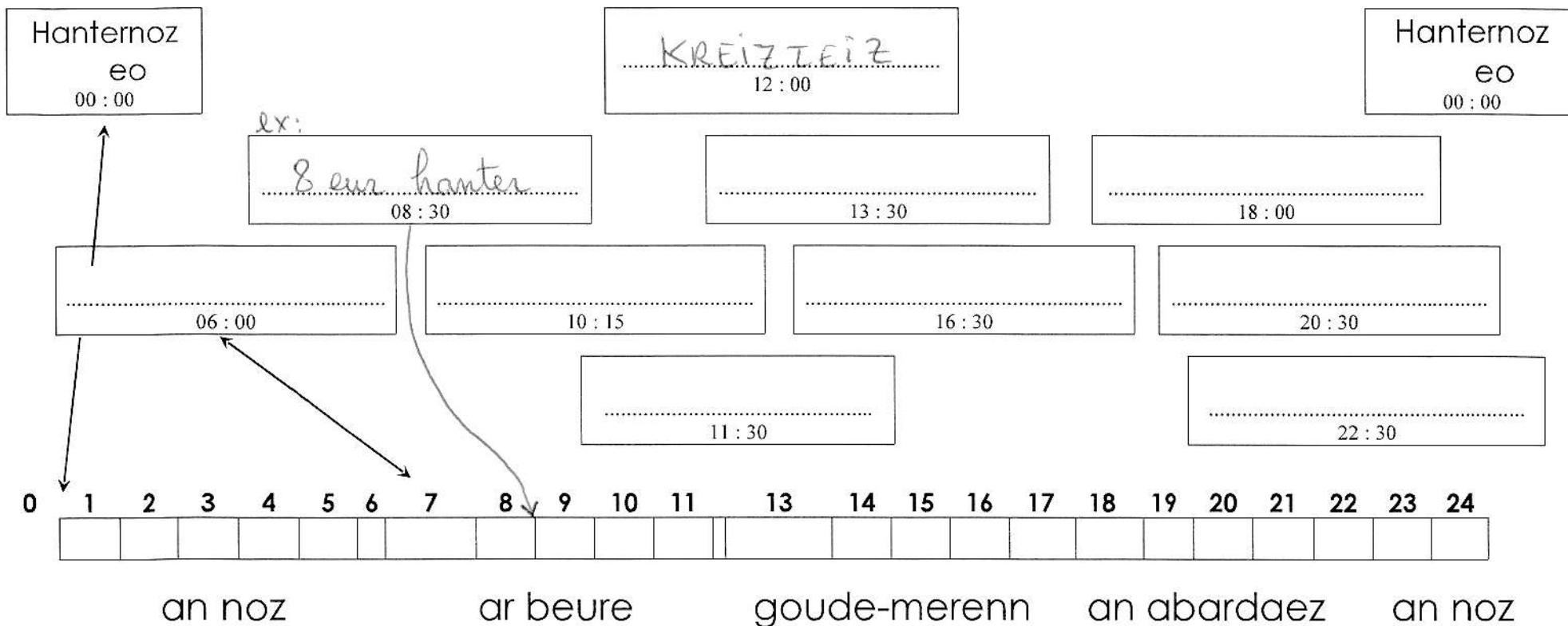
- An **devezh** : deus **hanternoz** da **hanternoz**

~~.....~~

Remplir ~~.....~~ et relier à la frise.

~~.....~~

1./ Leun pep bandenn ha liamm anezhe gant an eur war ar reolenn amañ dindan :



~~.....~~

~~.....~~

Nom :

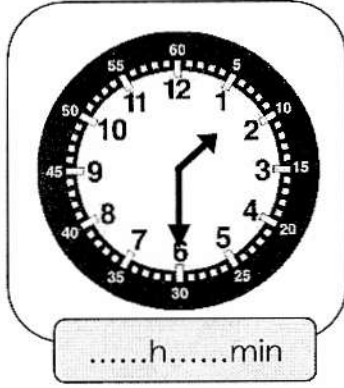
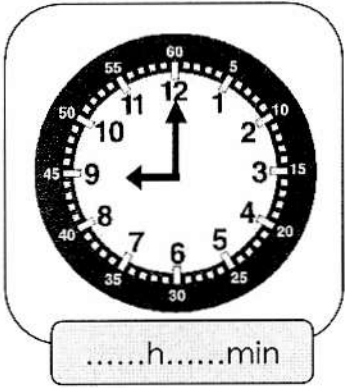

Date :

- Reconnaître, lire et indiquer les heures, quarts d'heures et les demi-heures.
- Connaître la relation entre les heures et les minutes.




Exercices

Lire l'heure



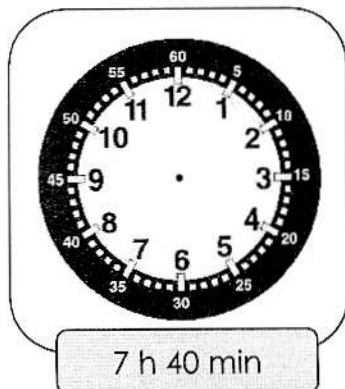
1 Indique l'heure. C'est le matin.



2 Indique l'heure. C'est l'après-midi.



3 Lis l'heure indiquée et place les aiguilles.



- Reconnaître, lire et indiquer les heures, quarts d'heures et les demi-heures.
- Connaître la relation entre les heures et les minutes.

Nom :

Date :

Exercices

Lire l'heure

4 Lis l'heure indiquée et place les aiguilles.

14 h 50 min

23 h 15 min

16 h 45 min

5 Indique l'heure. C'est le matin.

.....h.....min

.....h.....min

.....h.....min

6 Indique l'heure. C'est l'après-midi.

.....h.....min

.....h.....min

.....h.....min